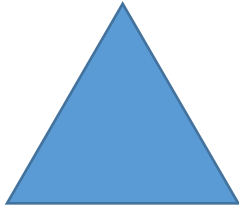


Was kannst du bereits?


Woche 16 / Formen

Name

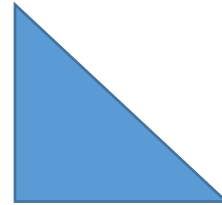
1) Welche der folgenden Dreiecke und Vierecke kannst du bereits mit dem richtigen Namen benennen?



1



2



3



4



5



6



7

Quadrat
gleichschenkliges Dreieck
Rechteck
Rhombus
gleichseitiges Dreieck
Parallelogramm
rechtwinkliges Dreieck

2) Zeichne ein gleichmässiges Sechseck! (Tipp: Der Zirkel hilft dir dabei!)

3) Stimmen die Aussagen? Zeichne und probiere auf der Rückseite!

«Eine Diagonale unterteilt ein Rechteck in zwei rechtwinklige Dreiecke.»

«Eine Diagonale unterteilt ein Quadrat in zwei gleichseitige Dreiecke.»

«Jedes gleichschenklige Dreieck kann in zwei rechtwinklige Dreiecke zerlegt werden.»