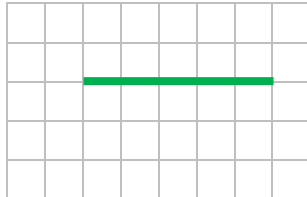
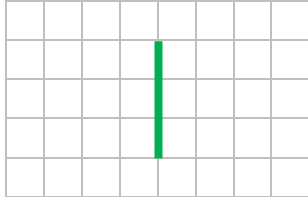

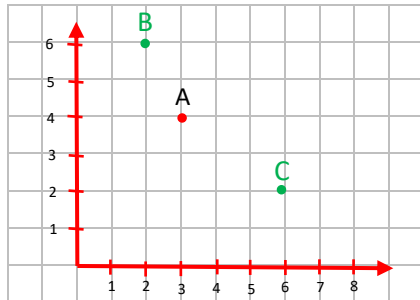
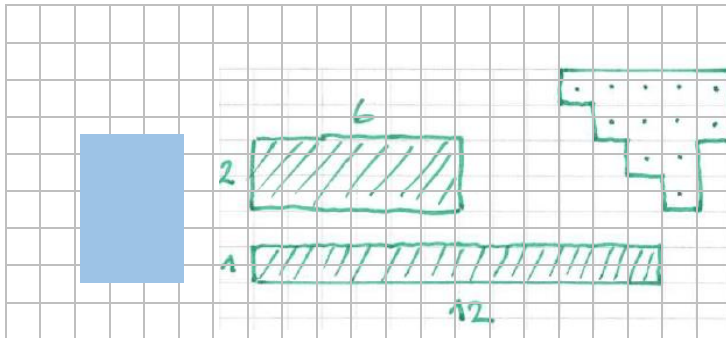




Was kannst du bereits?

Woche 4 / Raster und Koordinaten

Lösungen

<p>1) Zeichne einen horizontalen Strich mit Länge 5 Häuschen.</p>  <p>A1</p>	<p>2) Zeichne einen vertikalen Strich mit Länge 3 Häuschen.</p>  <p>A1</p>	<p>3) Kennzeichne den Umfang blau und die Fläche rot.</p>  <p>C1</p>
<p>4) Hier siehst du ein Raster. Der eingezeichnete Punkt A hat darin den Ort: A (3/4). Kannst du folgende Punkte richtig setzen?</p> <p>Punkt B: B (2/6)</p> <p>Punkt C: C (6/2)</p>  <p>B2</p>		
<p>5) Zeichne 3 Figuren, die anders aussehen aber die gleiche Fläche haben.</p>  <p>E3</p>		
<p>6) Vielleicht kannst du auch bereits das:</p> <p>Zeichne mit dem Geodreieck eine Fläche von 1 cm².</p>  <p>Zeichne eine Fläche von 10 cm².</p>  <p>C1</p>		